

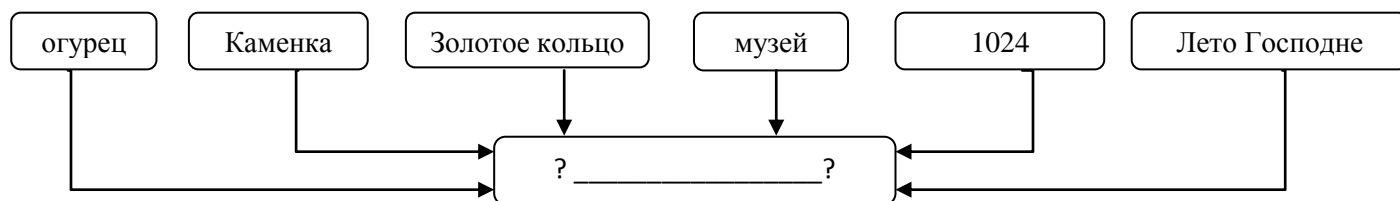
## Викторина «Владимирская область»

### Задание 1. Установи соответствие. Ответ запиши в таблице

Фамилия, имя, отчество	Заслуги
1. Левитан Юрий Борисович	А. советский лётчик-космонавт
2. Танеев Сергей Иванович	Б. физик, профессор Московского университета
3. Виноградов Дмитрий Иванович	В. русский композитор, пианист
4. Шмелёв Иван Сергеевич	Г. первооткрыватель Антарктиды
5. Лазарев Михаил Петрович	Д. гимнаст, Олимпийский чемпион
6. Фатьянов Алексей Иванович	Е. создатель телевизионного передатчика
7. Кубасов Валерий Николаевич	Ж. создатель русского фарфора
8. Андрианов Николай Ефимович	З. поэт, писал песни о войне
9. Зворыкин Владимир Козьмич	И. русский писатель
10. Столетов Александр Григорьевич	К. диктор Всесоюзного радио, читал сводки с фронта

1	2	3	4	5	6	7	8	9	10

### Задание 2. О каком городе Владимирской области идёт речь? Впишите название города в поле со знаком «?\_?»». По каким признакам вы догадались? Поясните свой ответ.



Ответ: \_\_\_\_\_

\_\_\_\_\_

\_\_\_\_\_

\_\_\_\_\_

\_\_\_\_\_

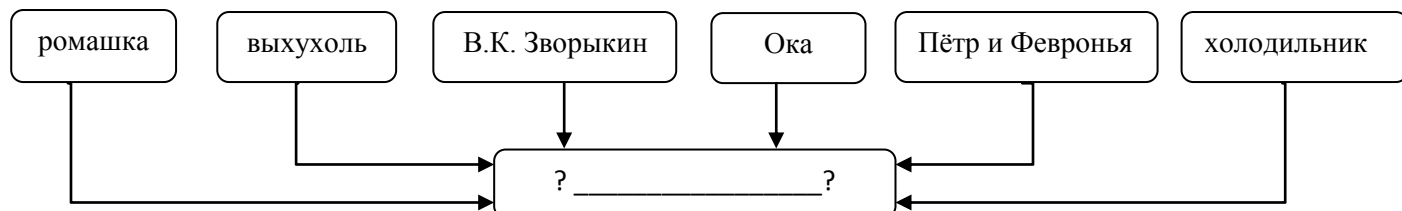
### Задание 3. Рассмотрите внимательно фрагмент карты Владимирской области. Используя информацию, полученную в ходе изучения карты, выполните задания. Прочитайте текст. Вставьте пропущенную информацию.

Владимирская область расположена в центре Европейской части России. Площадь области составляет 29 000 км<sup>2</sup>.

На карте Владимирской области видно, что на западе и юго-западе она граничит с \_\_\_\_\_ областью, на севере — с \_\_\_\_\_ и \_\_\_\_\_, на юге — с \_\_\_\_\_, на востоке — с \_\_\_\_\_ областью. Административным центром Владимирской области является город \_\_\_\_\_.



**Задание 4.** О каком городе Владимирской области идёт речь? Впишите название города в поле со знаком «? \_ ?». По каким признакам вы догадались? Поясните свой ответ.



Ответ: \_\_\_\_\_  
 \_\_\_\_\_  
 \_\_\_\_\_  
 \_\_\_\_\_

**Задание 5.** Запиши название региона: республики, или области, или края, в котором ты живёшь.

Ответ: \_\_\_\_\_

**5.1.** Как называется главный город твоего региона?

Ответ: \_\_\_\_\_

**5.2.** Напиши названия городов районных центров нашей области.


\_\_\_\_\_

\_\_\_\_\_

**5.3. Выбери из предложенного списка реки, которые протекают по территории нашей области, подчеркни эти реки:**

Дунай, Клязьма, Нерль, Ока, Нева, Колокша, Амазонка, Обь, Енисей, Волга, Судогда.

**Задание 6. Рассмотрите рисунки. Отметь  герб Владимирской области?**



**6.1. Что изображено на гербе города Александрова?**

Ответ:

---

---

**Задание 7. На территории Владимирской области находятся болота. Подумай, какое значение они имеют в жизни человека. Ответ запиши в таблице**

БОЛОТО	1) _____
	2) _____
	3) _____
	4) _____
	5) _____

**Задание 8. Выбери верный ответ. Подчеркни**

Самая крупная река Владимирской области: 1) Волга 2) Ока 3) Клязьма 4) Нерль

**Задание 9.** Туристические фирмы нашей области разработали рекламные лозунги для привлечения туристов в наш регион. Установите соответствие между лозунгом и населенным пунктом: к каждому элементу первого столбца подберите соответствующий элемент из второго столбца.

А) Добро пожаловать в центр лаковой миниатюры и иконописи!	1) город Вязники
Б) Полюбуйтесь красотой старинных соборов и побывайте на горнолыжном курорте «Пужалова гора»!	2) посёлок Мстёра
В) Приглашаем погрузиться в очаровательную старину Руси, посетить Музей деревянного зодчества, который находится неподалеку от Кремля, на берегу реки Каменки.	3) деревня Орехово Собинского района
Г) Побывайте на Всероссийском Фатьяновском празднике поэзии и песни!	4) город Суздаль
Д) Приглашаем посетить дом-музей «отца русской авиации» Н.Е.Жуковского!	5) город Гороховец

**Запишите в таблицу выбранные цифры под соответствующими буквами.**

слоганы	А	Б	В	Г	Д
населённый пункт					

**Задание 10. Достопримечательности Владимирской области**

Фрагменты каких памятников древнерусского зодчества города Владимира изображены на фотографиях? Запишите.

- 1) \_\_\_\_\_
- 2) \_\_\_\_\_
- 3) \_\_\_\_\_

**1**



**2**



**3**



**Задание 11. Назовите архитектурный памятник нашего края, используя подсказки:**

Андрей Боголюбский; Нерль, Клязьма; 1165 год; лебедушка; в списке всемирного наследия ЮНЕСКО; белокаменная резьба

Ответ: \_\_\_\_\_

**1165 год.** Какому веку соответствует эта историческая дата? \_\_\_\_\_